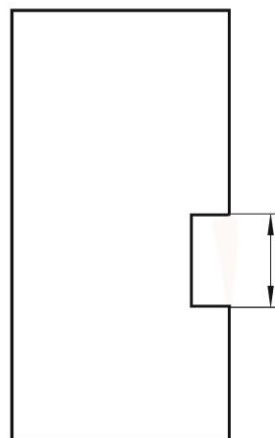
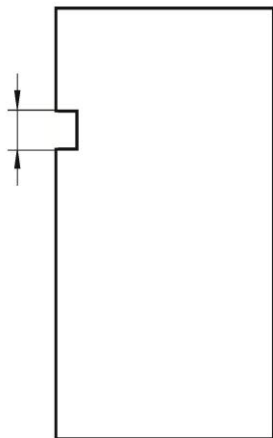


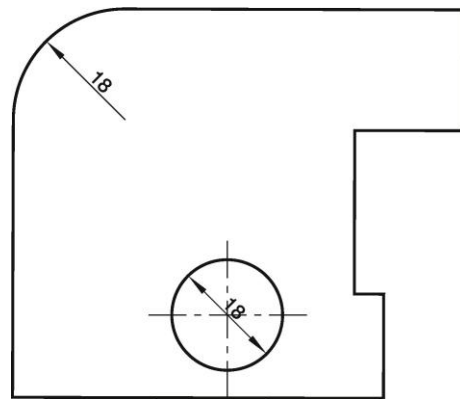
Karta pracy *Wymiarowanie rysunków technicznych- powtórzenie wiadomości*

imię i nazwisko	
_____	_____
klasa	data

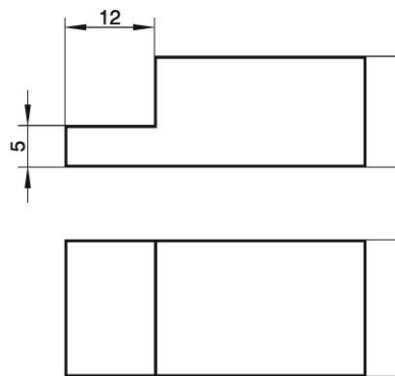
1. Zmierz boki figur i zapisz w odpowiednich miejscach liczby wymiarowe.



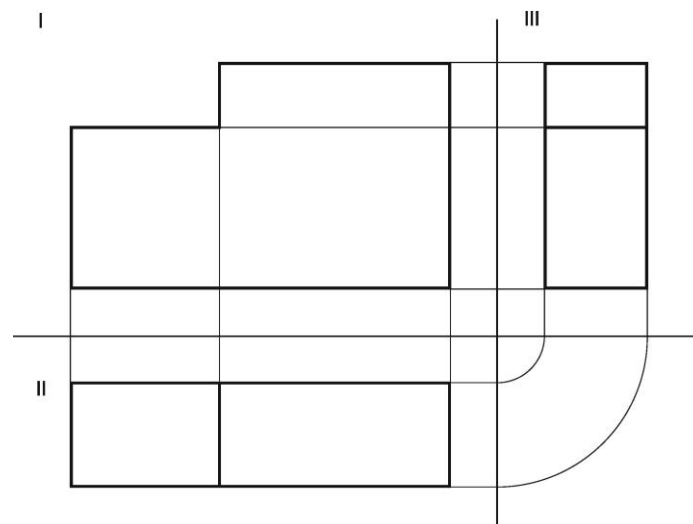
2. Nanieś na rysunek odpowiednie symbole oznaczające promień oraz średnicę.



3. Dokończ wymiarowanie rysunków.



4. Przyjrzyj się rzutom prostokątnym i uzupełnij zdanie informacją, którego rysunku nie trzeba wymiarować, zgodnie z zasadą pomijania wymiarów oczywistych. Następnie zwymiaruj pozostałe rysunki.



Podczas wymiarowania można pominąć rysunek znajdujący się na rzutni nr.